
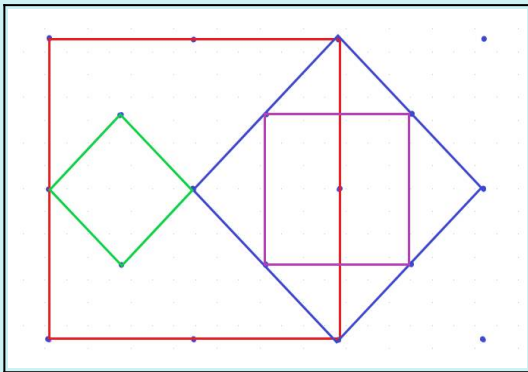


SOLUTIONS

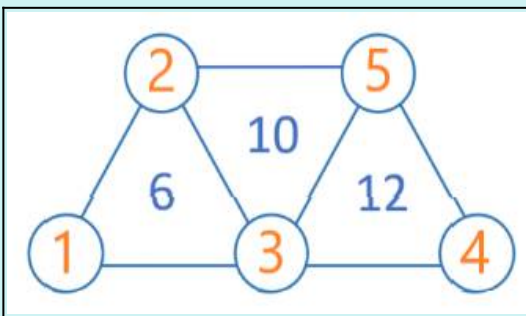
1



2 Il est possible de dessiner deux carrés «°droits°» et deux carrés «°penchés°» de tailles différentes.



3



4

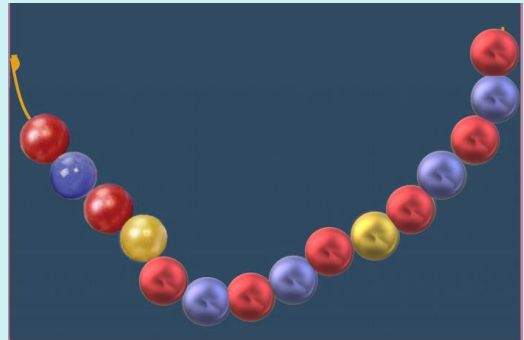
Le côté du carré rouge mesure **5 cm**.

5

Pour chacune des deux cibles°:

- 2 flèches dans la **zone jaune**
ou
- 1 flèche dans la **zone bleue** et
1 flèche dans la **zone rouge**.

6



La 15^e perle sera **rouge**

7

L	A	P	I	N
N	I	L	P	A
I	P	N	A	L
P	L	A	N	I
A	N	I	L	P

8

7 triangles sont tracés sur ce dessin

